

TRABAJO DE MATEMÁTICA

GRADO: 7°

PROF.: Lic. María Liliana Ríos González.

TEMA: Plano Cartesiano.

CAPACIDAD: Comprende conceptos y procedimientos fundamentales referidos a conjunto de números entero.

INDICADORES:

- ✓ Reconoce los ejes del Plano Cartesiano.
- ✓ Representa los números enteros en un Plano Cartesiano.
- ✓ Ubica puntos en el Plano Cartesiano.
- ✓ Escribe coordenadas de los puntos indicados en el Plano Cartesiano.
- ✓ Identifica figuras geométricas en el Plano Cartesiano.
- ✓ Me intereso por el desarrollo del tema.
- ✓ Entrego el trabajo con pulcritud.
- ✓ Presento en fecha establecida.

TOTAL DE PUNTOS:

8Pts.

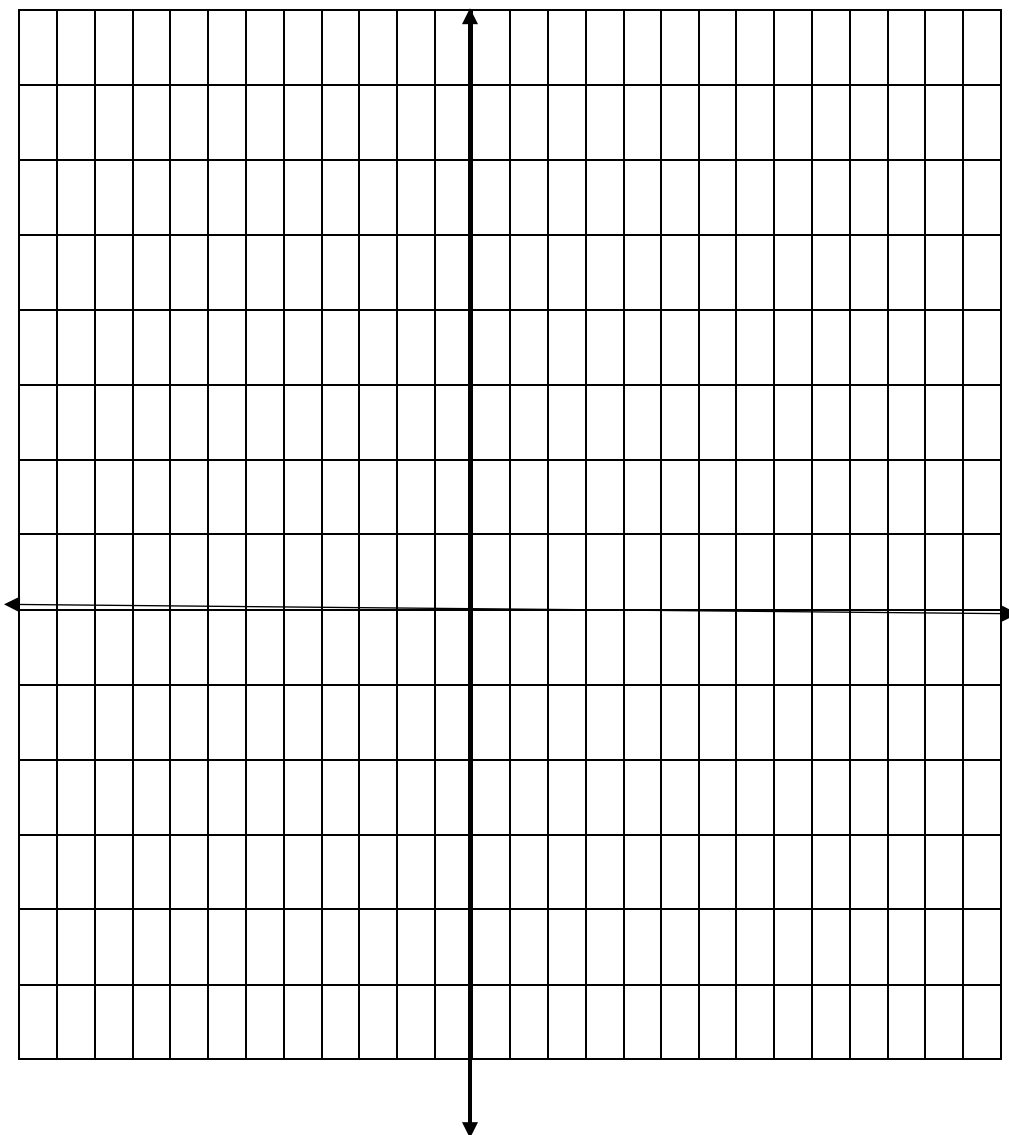
ACTIVIDADES

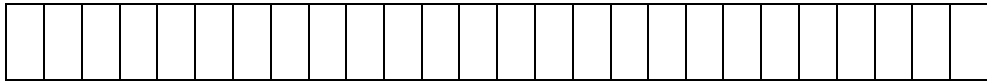
1. Ubica los siguientes puntos en el sistema de ejes cartesianos.

A (1, 6) B (5, 6) C (7,4) D (3,4) E(7,1) F (0,1)

G (0,4) H (4,3) I (6,3) J (6,2) K (4,2) L (1,1)

M (1,3) N (2,3) P (2,1)





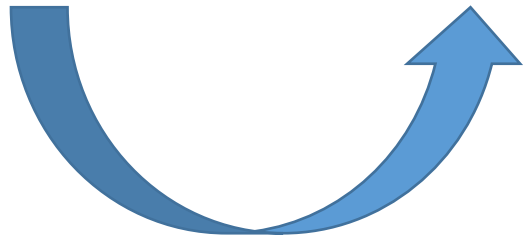
Une los puntos con segmentos coloreados, según el orden y color indicado:

Con Rojo: A, B, C, D, A.

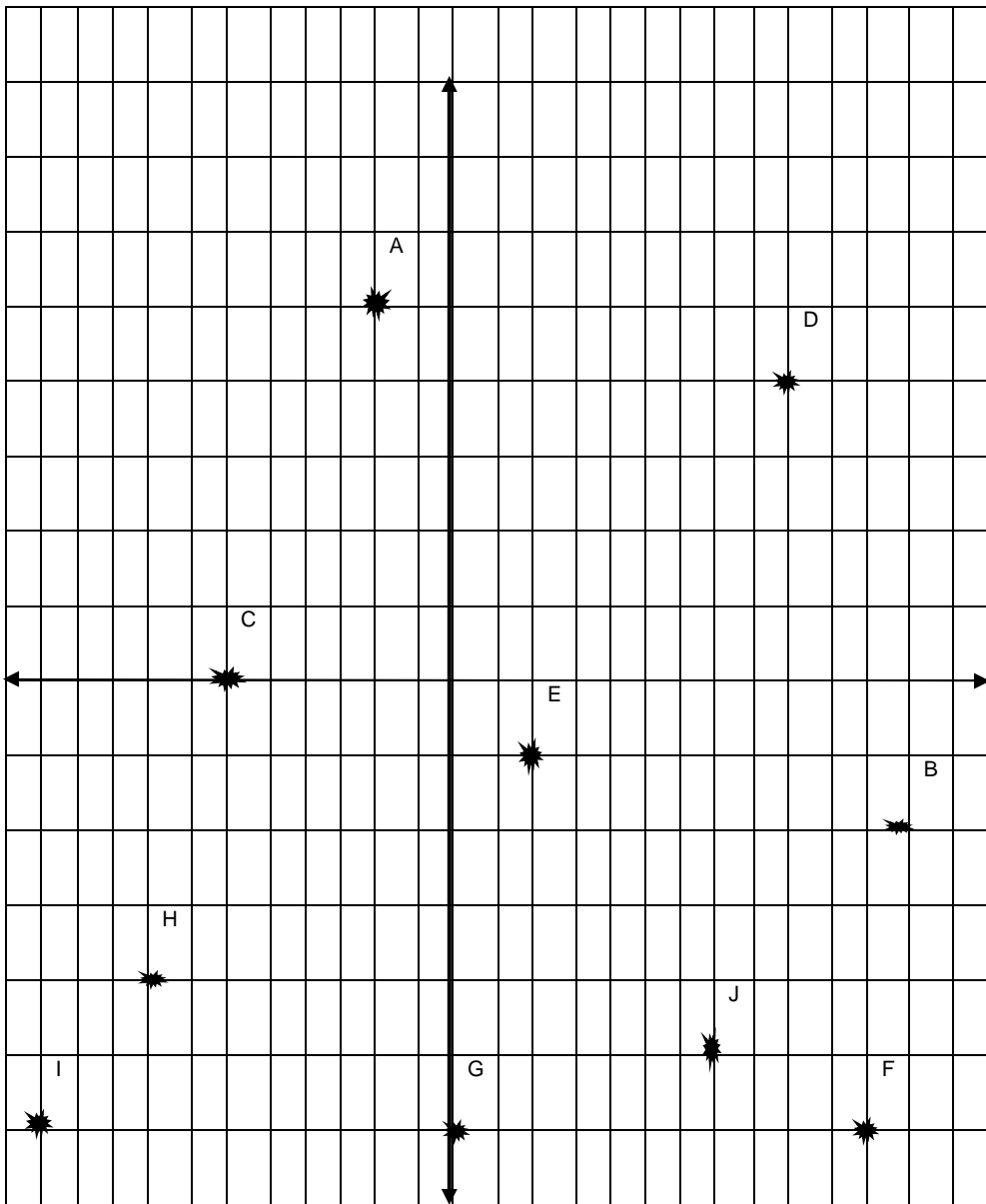
Con amarillo: C, E, F, G, A.

Con Verde: L, M, N, P.

Con Azul: H, I, J, K, H.



2. Escribe las coordenadas de los puntos del Plano Cartesiano.



A(,) B(,) C(,) D(,) E(,) F(,) H(,) I(,) J(,)

